

Arbeitsblatt: Übersicht

Aufgabe 1

Arbeite mit dem Atlas. Ordne in der Tabelle jedem Bundesland die passende Landeshauptstadt zu.

Bayern	München
Niedersachsen	Hannover
Baden-Württemberg	Stuttgart
Nordrhein-Westfalen	Düsseldorf
Brandenburg	Potsdam
Mecklenburg-Vorpommern	Schwerin
Hessen	Wiesbaden
Sachsen-Anhalt	Magdeburg
Rheinland-Pfalz	Mainz
Sachsen	Dresden
Thüringen	Erfurt
Schleswig-Holstein	Kiel
Saarland	Saarbrücken
Stadtstaaten: Berlin, Hamburg und Bremen	

Aufgabe 2

Fülle die Lücken des Textes mit folgenden Begriffen:

Deutschland ist ein sogenannter föderaler Bundesstaat. Das bedeutet, dass nicht nur im Bundestag Entscheidungen fallen. Auch die Bundesländer entscheiden mit. Zum Beispiel, wenn es neue Gesetze geben oder diese geändert werden sollen.

Die Bundesländer haben eigene Parlamente und Abgeordnete. Hier in Bayern ist der Landtag in München. Die Abgeordneten kommen aus allen Teilen Bayerns.

Um ein Bundesland wie Bayern verwalten zu können, ist es in Regionen, sogenannte Bezirke eingeteilt. Diese sind:

- Unterfranken
- Oberfranken
- Mittelfranken
- Oberpfalz
- Schwaben
- Oberbayern und
- Niederbayern

Zudem ist es in Stadtkreise und Landkreise eingeteilt.

Lösungsvorschläge:

Regionen in Deutschland – Bayern



Aufgabe 3

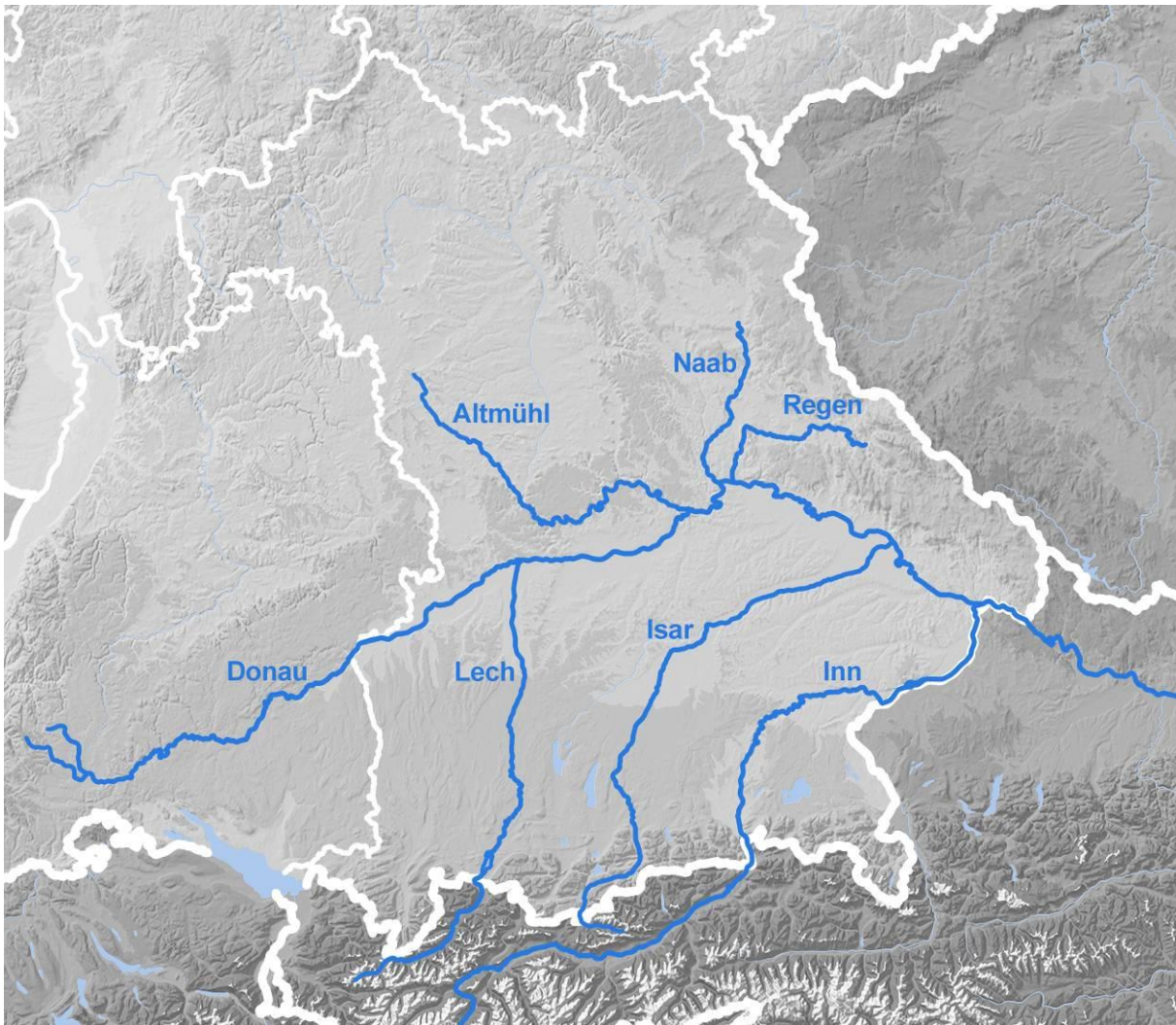
Trage auf der Bayern-Karte die Nachbarstaaten, die Bezirke und die Hauptstadt ein.



Arbeitsblatt: Gewässer

Aufgabe 1

Beschrifte auf der Karte die eingezeichneten Flüsse.



Aufgabe 2

Charakterisiere den Bodensee. Führe dabei seine wichtigsten Merkmale auf.

Der Bodensee ist ein unvorstellbar großer Wasservorrat. An seiner tiefsten Stelle ist er über 250 Meter tief, von Konstanz in Baden-Württemberg bis Lindau in Bayern ist er über 40 Kilometer lang. Zu Baden-Württemberg und Bayern gehören rund zwei Drittel des Bodensees. Benachbarte Länder am See sind die Schweiz und Österreich. Der Bodensee ist ebenso wie die Voralpenseen mit dem Rückzug der Eismassen der letzten Eiszeit vor gut 10 000 Jahren entstanden.

Lösungsvorschläge:

Regionen in Deutschland – Bayern



Aufgabe 3

Nenne die fünf größten Voralpenseen Bayerns.

Chiemsee

Starnberger See

Ammersee

Walchensee

Tegernsee

Arbeitsblatt: Landschaftsformen

Aufgabe 1:

**Teilt euch in Gruppen ein und erarbeitet, wie die Alpen entstanden sind.
Verwendet dabei folgende Begriffe:**

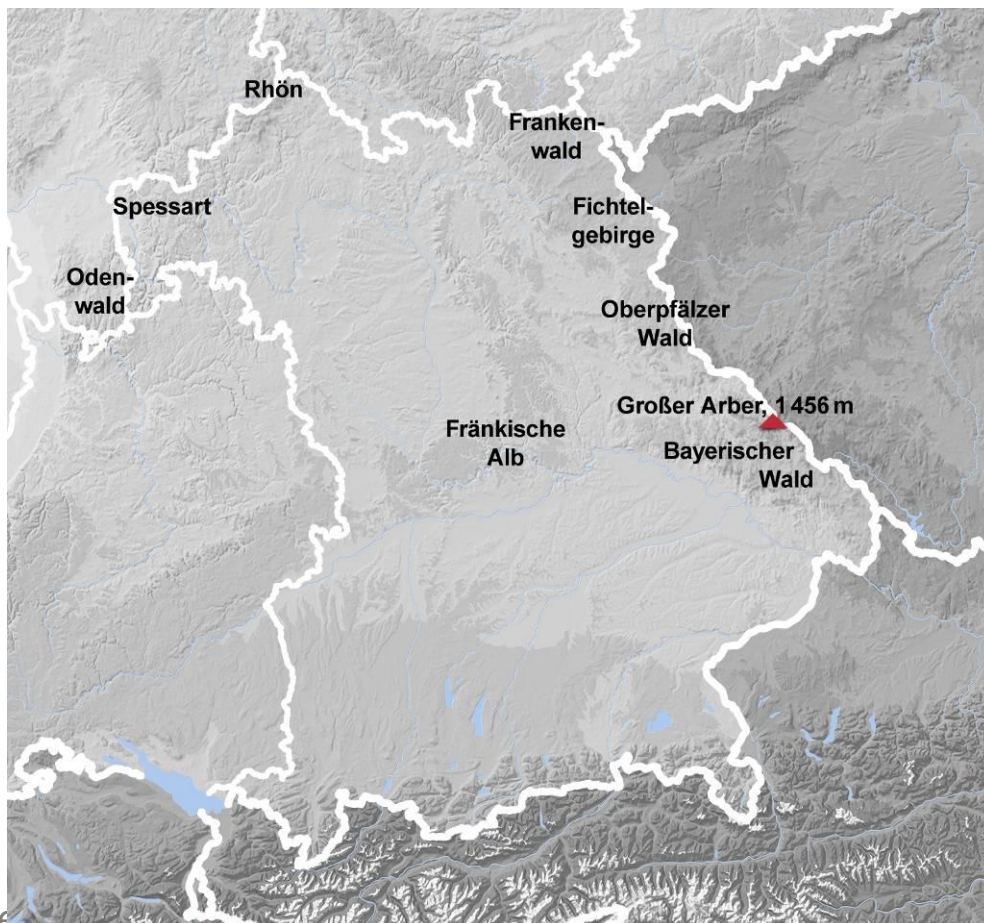
Erdplatten, Eiszeit, Bewegung, geologische Auffaltung, Gletscher

Die Gletscher der letzten Eiszeiten haben die Landschaften in Europa und im heutigen Deutschland geformt.

Auch die Alpen und das Alpenvorland wurden durch Eismassen aus dem Hochgebirge und Bewegung der Gletscher in ihrer heutigen Form geprägt. Das Hochgebirge der Alpen befindet sich seit vielen Millionen Jahren in einer sogenannten geologischen Auffaltung. Erdplatten drücken gegeneinander und lassen das Gebirge emporsteigen. Die Alpen zählen wie der Himalaya oder der Kaukasus zu den jüngeren Hochgebirgen.

Aufgabe 2

Trage in die Karte die bedeutendsten Mittelgebirge Bayerns ein und benenne die höchste Erhebung mit Höhenangabe.



Lösungsvorschläge:

Regionen in Deutschland – Bayern



Aufgabe 3

Fülle die Lücken im unten stehenden Text aus.

Das Alpenvorland lässt sich geografisch auf ein Gebiet südlich der Donau und nördlich des Randes zum Hochgebirge der Alpen definieren. Das Alpenvorland charakterisiert eine sanfte, oft grüne oder bewaldete Hügellandschaft, deren Erhöhungen zwischen rund 300 und 900 Metern über dem Meeresspiegel liegen. Die Form der Erdoberfläche entstand im Alpenvorland aus ausgedehnten Schotterflächen, die durch das Abschmelzen der Gletscher nach dem Ende der Eiszeit gebildet wurden, sowie aus Sediment, das durch die Flüsse des nahen Hochgebirges der Alpen abgetragen wurde. Das Alpenvorland erstreckt sich vom südöstlichen Baden-Württemberg über den Bodensee und über weite Teile des südlichen und mittleren Bayerns bis zum Bayerischen Wald.

Lösungsvorschläge:

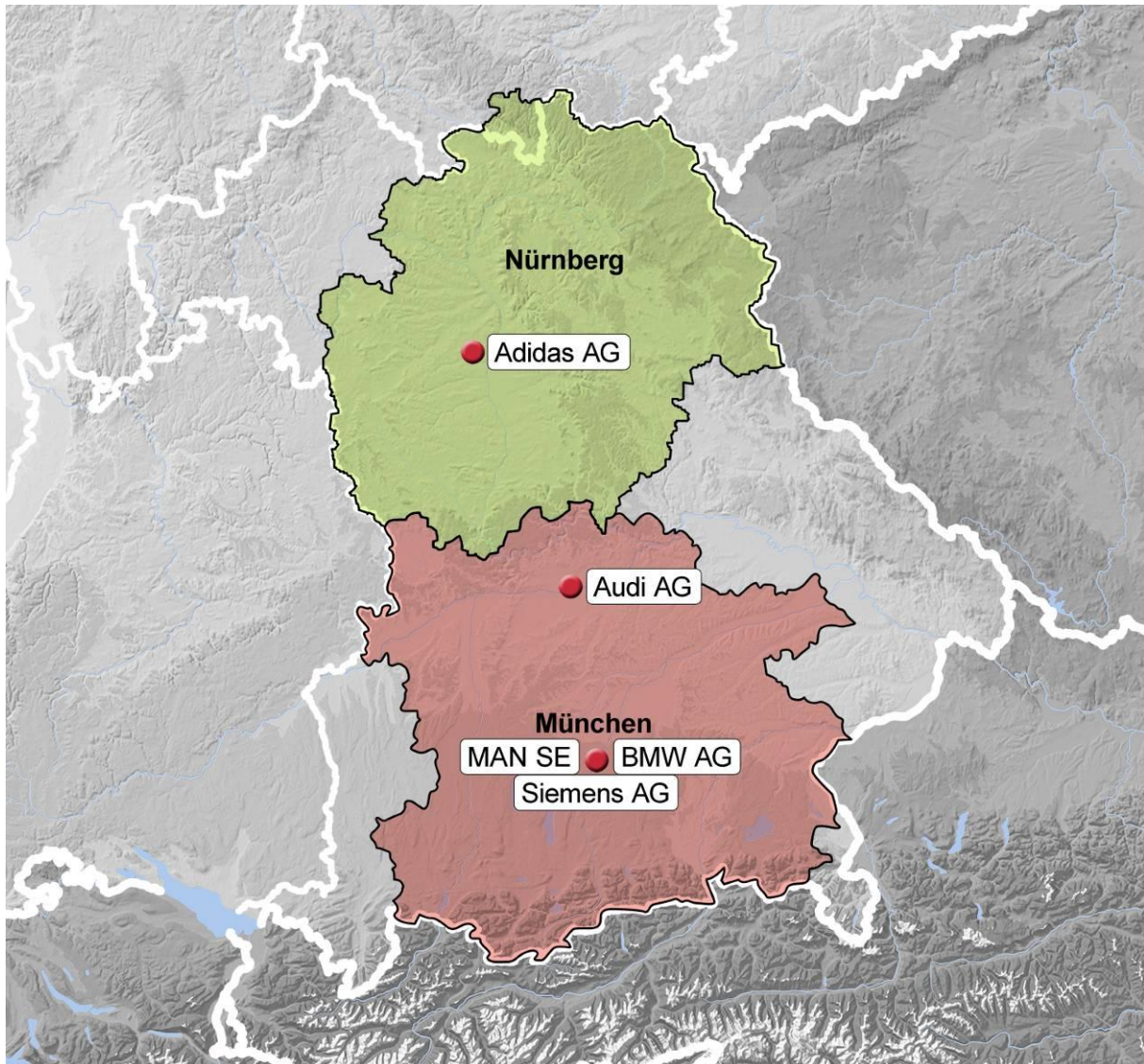
Regionen in Deutschland – Bayern



Arbeitsblatt: Wirtschaft


Aufgabe 1

Schraffiere die großen Industrie- und Metropolregionen Bayerns in der stummen Karte.



Aufgabe 2

Trage die nachfolgenden Unternehmen ebenfalls in die stumme Karte ein.



➔ Siehe Karte

Lösungsvorschläge:

Regionen in Deutschland – Bayern



Aufgabe 3

Charakterisiere die Landwirtschaft im Südwesten und Süden Deutschlands.

Die Landwirtschaft in Süddeutschland ist von kleinbäuerlichen Betrieben geprägt, die insgesamt sehr leistungsstark sind. Sonderkulturen wie Wein, Obst und Hopfen spielen eine wichtige Rolle. Im Alpenvorland dominiert die Viehzucht, in Franken gibt es auch größere zusammenhängende Ackerflächen.